

Webinar del 1° dicembre

Buonasera prof. Cotruvo sono Chiara le scrivo per chiederle se può aiutarmi a capire come si risolvono due esercizi di logica:

1) Completare la seguente successione numerica: 22-33-44-?

A)165 B) 132 C) 144

2) Trova la chiave logica che completa le seguenti proporzioni :

arto= 16; canto= 19; porto= 22; mento=

A) 8 B) 18 C)16

Inoltre, volevo farle i complimenti per il corso dedicato alla preparazione della prova dell'Inps a cui sono iscritta e volevo chiederle come mai non riesco ad accedere ai materiali online del suo libro "Concorso 1858 Consulenti di protezione sociale INPS Teoria e Test" collegandomi al sito maggioli.it/approfondimenti ?

La ringrazio.

In attesa di un suo riscontro.

Cordiali Saluti

CORSO ON-LINE

Home / Professionisti e aziende / Comunicazione / Concorso Agenzia delle Entrate 2320 Funzionari amministrativo tributari

COMUNICAZIONE



FWCC210923C

Concorso Agenzia delle Entrate 2320 Funzionari amministrativo tributari

Corso online su come prepararsi alla prova attitudinale a cura di **Giuseppe Cotruvo**

On-line valido fino al 31 dicembre 2021 Durata n.12 videolezioni di 2 ore ciascuna

SEDE: ON-LINE

Presentazione

Il corso si rivolge ai candidati del Concorso bandito dall'Agenzia delle Entrate per 2320 Funzionari amministrativo tributari, pubblicato sulla Gazzetta ufficiale del 13 agosto 2021, n. 64. In particolare il corso aiuterà i candidati nella preparazione alla prova attitudinale prevista dal bando, che consisterà nella risoluzione di un test a risposta multipla con quiz di tipo logico-attitudinale. Il docente Giuseppe Cotruvo, uno dei più conosciuti e apprezzati esperti nazionali di didattica e manualistica concorsuale, illustrerà le varie tipologie di quiz che i candidati potranno trovare durante la prova, svolgerà vari quiz presi dai test ufficiali dei concorsi precedenti dell'Agenzia delle Entrate e di altre esperienze concorsuali e fornirà suggerimenti e tecniche di risoluzione che aiuteranno i candidati ad acquisire un metodo per affrontare e risolvere la prova.

Obiettivi

DOCENTE

Giuseppe Cotruvo

[INFO SUI DOCENTI](#)

Evento confermato /Iscrizioni Aperte

ISCRIVITI SUBITO E VAI AL CARRELLO

[ISCRIVITI ONLINE](#)

[RICHIEDI INFORMAZIONI](#)

[SCARICA SCHEDA ISCRIZIONE](#)

[SCARICA IL MANUALE D'USO](#)

[STAMPA IL PROGRAMMA](#)

[ESEMPIO DI ISCRIZIONE](#)

006. Indicare quale gruppo di lettere, premesso in sequenza ai termini proposti, determina parole di senso compiuto.
dito - ramo - arga - arca - ella.

~~A) A - G - Z - P - N.~~

~~B) U - G - V - T - D.~~ 49

~~C) E - T - T - M - B.~~ VICTORIA
TOUL

Buongiorno Prof Cotruvo volevo chiederle come svolgere velocemente qst quiz:Dai risultati di un sondaggio su 420 soggetti risulta che 125 persone sono favorevoli, 165 contrari e 130 si sono astenuti. Qual 'è circa la percentuale di favorevoli.?

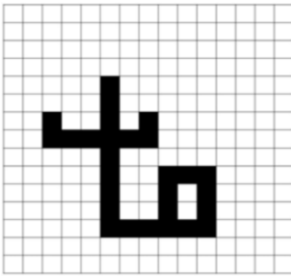
30,95 %

39,29%,

29,76%

Mi da come risposta corretta 29,76% Grazie per la disponibilità

0265. Se la superficie totale del quadrato rappresentato in figura è pari a 787,5 cmq, quanto vale la superficie colorata in nero?



- A) 98 cmq
- B) 99 cmq
- C) 100 cmq

0023. Si hanno a disposizione una mela rossa, una mela verde, una pera, un limone e un pompelmo. Se li allineiamo a caso su un tavolo quante probabilità abbiamo di formare questa disposizione: la pera, le due mele, il limone e il pompelmo?

- A) 1 su 60.
- B) 1 su 40.
- C) 1 su 80.

0024. L'insegna luminosa A si spegne ogni diciotto secondi, l'insegna luminosa B si spegne ogni sei secondi, l'insegna luminosa C si spegne ogni dodici secondi. Nell'intervallo di tempo tra le 21.00 e le 24.00, essendo state accese nello stesso momento alle 21.00, quante volte si spegneranno contemporaneamente?

- A) 300 volte.
- B) 302 volte.
- C) 304 volte.

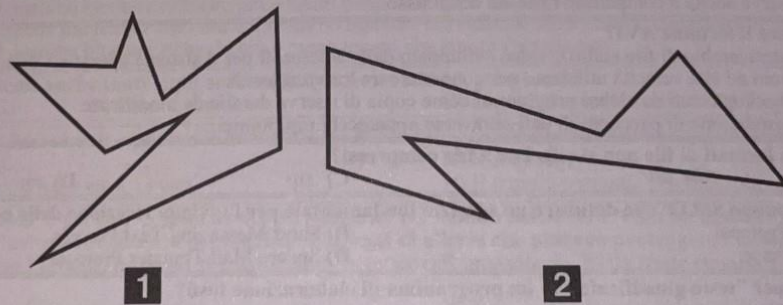


FIGURA TP 41

1 Rispondere al seguente quesito facendo riferimento alla FIGURA TP 41

La figura 1 sta a 252 come la figura 2 sta a:

- A) 189
- B) 378
- C) 203
- D) 196

0071. In una palestra sono iscritte 63 persone. In totale, tra gli iscritti, gli uomini sono il doppio delle donne, ma durante i corsi di fitness la proporzione si ribalta e le donne diventano il doppio degli uomini. Quante sono le donne iscritte?

- A) 21.
- B) 9.
- C) 12.

0246. Quando potremo chiamare "ieri" la giornata di dopodomani, se l'altro ieri era l'indomani di Domenica?
A) Sabato.
B) Lunedì.
C) Giovedì.

A) Bisogna accertare l'adeguatezza psicologica.
B) È opportuno seguire un corso di insegnamento teorico-pratico tenuto da centri competenti.
C) Bisogna seguire un corso di insegnamento pratico tenuto da centri competenti.

0270. In quale giorno ho chiamato "domani" la giornata di ieri, se l'altro ieri era il dopodomani di Venerdì?
A) Domenica.
B) Sabato.
C) Lunedì.

...che le due proposizioni siano logicamente equivalenti.
...corretti".

0006. In un supermercato Andrea acquista 9 bottiglie di vino Dolcetto e un decanter di vetro da 26 euro. Il suo amico Guglielmo acquista due cartoni da 6 bottiglie dello stesso vino e un cavatappi da 6,50 euro. Se alla cassa pagano la stessa somma, quanto costa la singola bottiglia di vino?
A) 6,50 euro.
B) 7,50 euro.
C) 8,50 euro.

L'insegna luminosa A si spegne ogni diciotto secondi, l'insegna luminosa B si spegne ogni sei secondi, l'insegna luminosa C si spegne ogni dodici secondi. Nell'intervallo di tempo tra le 21.00 e le 24.00, essendo state accese nello stesso momento alle 21.00, quante volte si spegneranno contemporaneamente?
A) 300 volte.
B) 302 volte.
C) 304 volte.

0890. Quante "facce" sono presenti nelle seguenti figure?



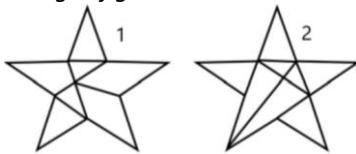
A) 18.
B) 16.
C) 20.

AGENZIA DELLE ENTRATE
510 UNITÀ PROFILO PROFESSIONALE FUNZIONARIO, PER ATTIVITÀ AMMINISTRATIVO-TRIBUTARIA
QUESTIONARIO - 69

001. La R&R Spa ha 25 tra operai, operai specializzati e capi reparto e 6 tra impiegati, quadri e funzionari a cui corrisponde un salario rispettivamente di 1.660 euro e di euro 1.810 in media al mese. La P&P Spa ha 22 tra operai, operai specializzati e capi reparto e 8 tra impiegati, quadri e funzionari a cui corrisponde un salario rispettivamente di euro 1.620 e euro 1.820 in media al mese. Quale ditta spende di più in un mese?

- A) La P&P Spa spende Euro 2. 610 in più.
- B) La R&R Spa spende Euro 2.160 in più.
- C) La R&R Spa spende Euro 2. 610 in più.

Dopo aver osservato i disegni svolgere la seguente operazione: triangoli figura 1 elevato a quadrilateri figura 1, meno triangoli figura 2.



- A) 17
- B) 16
- C) 18