

**001. Quali numeri devono essere inseriti al posto dei puntini?**

141 - 158 - ... - 192 - ... - 226 - 243.

- A) 176 e 209.
- B) 175 e 209.
- C) 175 e 210.

**002. Spendo in affitto un terzo mio stipendio, un quarto va in spese fisse (bollette, assicurazione della macchina, ecc.) e mi rimangono Euro 470 per le altre spese. A quanto ammonta il mio stipendio?**

- A) 1.128.
- B) 1.812.
- C) 1.218.

**003. Quale dei seguenti numeri eliminerebbe?**

161 - 266 - 287 - 112 - 57.

- A) 161.
- B) 57.
- C) 266.

**004. Quali numeri completano la serie?**

173 - 184 - 178 - 189 - 183 - 194 - ... - ... - 193 - 204

- A) 188 e 199.
- B) 189 e 199.
- C) 188 e 200.

**005. Se si moltiplica per 400 e si divide il risultato per 25 si ottiene 512. Il numero è:**

- A) 32.
- B) 30.
- C) 34.

**006. Con quali di questi numeri deve continuare la serie?**

57 - 60 - 54 - 67 - 51 - 74 - 48 - 81 - ... - ....

- A) 44 e 88.
- B) 45 e 88.
- C) 45 e 89.

**007. Quali segni matematici devono essere inseriti nell'ordine al posto dei punti affinché:**

743 ... 432 ... 89 ... 4.325 ... 389 = 5.978

- A) + - - + +.
- B) + + - - +.
- C) + + + + +.

**008. In questo istante a Bogotá sono le ore 03:20. A Dublino il fuso orario è di 7 ore in avanti rispetto a Bogotá; a Quito il fuso orario è di 4 ore indietro rispetto a Dublino e a Parigi è di 5 ore in avanti rispetto a Quito. Che ore sono, in questo stesso istante, a Parigi?**

- A) Le 11:20.
- B) Le 10:20.
- C) Le 09:20.

**009. Nonno Gino ha 6 nipoti; Nonno Pino ha 7 nipoti; Nonno Rino ha 8 nipoti e Nonno Dino ne ha 9. Quanti nipoti hanno in media i 4 nonni?**

- A) 8.
- B) 7.
- C) 7,5.

**010. Usando solo la cifra "4" si sono costruite espressioni con risultati diversi. In quale delle seguenti il risultato è "3"?**

- A)  $? = (4 \times 4 + 4)/4$ .
- B)  $? = (4 + 4 + 4)/4$ .
- C)  $? = 44/44$ .

**Leggere il brano e rispondere alle seguenti 6 domande. (011 - 016)**

*Marta ha deciso di acquistare un libro della collezione sulle donne uniche che hanno cambiato il mondo ed è indecisa fra quattro possibilità: "Artemisia" di M. Montessori; "Vita" di M. Curie; "Elogio" di R. Levi Montalcini; "Passione" di I. Gandhi. I prezzi dei libri sono, non necessariamente in questo ordine: 7 euro, 7,50 euro, 8 euro e 9 euro. Ogni libro è formato da un numero di pagine diverso e in ordine sparso le pagine che compongono i libri sono: 88, 93, 99 e 101.*

*È inoltre noto che: 7 euro è il prezzo del libro composto da 93 pagine; "Elogio" è composto da 99 pagine; il prezzo del libro di I. Gandhi è superiore a 8 euro e non è composto da 88 pagine; il prezzo del libro di M. Curie non è 8 euro.*

**011. Qual è il libro composto da 93 pagine?**

- A) Il libro il cui prezzo è 8 euro.
- B) "Artemisia".
- C) "Passione".

**012. Euro 9 è il prezzo:**

- A) Del libro di M. Montessori.
- B) Del libro composto da 101 pagine.
- C) Del libro "Elogio".

**013. Sulla base delle informazioni fornite, indicare l'affermazione corretta.**

- A) "Vita" è composto da 88 pagine.
- B) "Elogio" costa 7,50 euro.
- C) "Passione" è composto da 99 pagine.

**014. Quale libro sceglierebbe Marta se decidesse di acquistare quello che, in base al prezzo è il primo in ordine crescente?**

- A) Il libro di M. Montessori.
- B) Il libro di R. Levi Montalcini.
- C) Il libro composto da 99 pagine.

**015. Da quante pagine è formato il libro il cui prezzo è 8 euro?**

- A) 101 pagine.
- B) 88 pagine.
- C) 99 pagine.

**016. Euro 7,50 è il prezzo del libro:**

- A) "Vita".
- B) Di I. Gandhi.
- C) Composto da 101 pagine.

**017. Quale dei seguenti termini integra correttamente la serie? daghe - dannoso - damigella.**

- A) Dattilogie.
- B) Dannunziani.
- C) Daltoniche.

**018. Aldo, Bruna, Carlo, Dafne e Raul siedono ad un tavolo ovale. Se Aldo non è accanto a Dafne e Bruna è tra Carlo e Aldo, di conseguenza tra chi è seduto Raul?**

- A) Due uomini.
- B) Aldo e Dafne.
- C) Bruna e Aldo.

**019. Se X si trova tra A e B; A si trova tra Y e X; B si trova tra X e K; Y si trova tra C e A; K si trova tra B e D è sicuramente vero che:**

- A) A è più vicino a Y che a C.
- B) D è più vicino a X che a B.
- C) Non è possibile stabilire se B sia più vicino a K che a D.

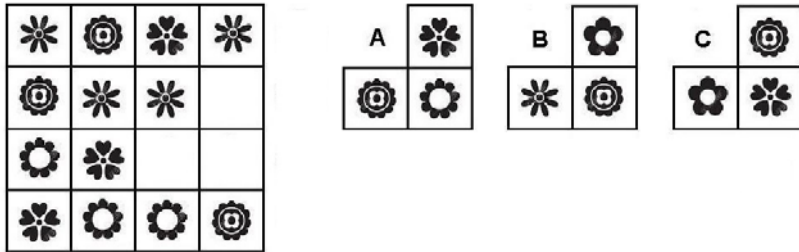
**020. Se .?. sta a Poiana allora è logico che .?. stia a Sgombro.**

- A) Volare - Nuotare.
- B) Planare - Mare.
- C) Ali - Piume.

**021. Vulcano : Sicilia = (X) : Sardegna = Ortles : (Y).**

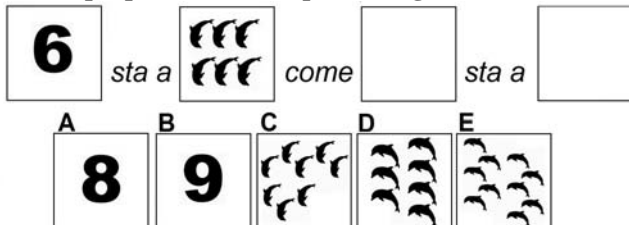
- A) (X) Gennargentu ; (Y) Trentino-Alto Adige.
- B) (X) Etna ; (Y) Piemonte.
- C) (X) Madonie ; (Y) Lombardia.

022. Individuare la figura che completa logicamente la griglia.



- A) Figura A.
- B) Figura C.
- C) Figura B.

023. La proporzione si completa con gli elementi indicati con:



- A) Le lettere A – D.
- B) Le lettere A – C.
- C) Le lettere B – E.

024. Individuare il termine che completa logicamente la proporzione. "bardare" sta a "barrare" come "gerente" sta a ..?..

- A) Geronte.
- B) Gestante.
- C) Gerenza.

**Leggere il brano e rispondere alle seguenti 5 domande. (025 - 029)**

Nel terzo trimestre 2018 si stima una crescita congiunturale delle esportazioni diffusa a livello territoriale ma con intensità diverse tra le ripartizioni: +4,3% per il Sud e Isole, +2,9% per il Nord-ovest, +0,7% per il Centro e +0,2% per il Nord-est. Nel periodo gennaio-settembre 2018 la crescita tendenziale dell'export si conferma molto sostenuta per le Isole e rilevante per il Nord-est, il Sud e il Nord-ovest, mentre il Centro risulta in leggera flessione. Nello stesso periodo, tra le regioni più dinamiche all'export su base annua, si segnalano Molise, Calabria, Basilicata e Valle d'Aosta che tuttavia presentano una forte polarizzazione settoriale e hanno un contenuto impatto sulla crescita dell'export nazionale. Sicilia, Friuli Venezia-Giulia, Emilia-Romagna e Lombardia contribuiscono per quasi 3 punti percentuali alla crescita complessiva. Le vendite di metalli di base e prodotti in metallo, esclusi macchine e impianti, e di mezzi di trasporto, autoveicoli esclusi, dalla Lombardia, di prodotti petroliferi raffinati dalla Sicilia e di macchinari e apparecchi n.c.a. dall'Emilia-Romagna contribuiscono alla crescita tendenziale dell'export nazionale nei primi nove mesi del 2018 per quasi un punto percentuale

025. Il contributo della Lombardia alla crescita tendenziale dell'export nazionale nei primi nove mesi del 2018 riguarda:

- A) Le vendite di metalli di base e prodotti in metallo, esclusi macchine e impianti, e di mezzi di trasporto, autoveicoli esclusi.
- B) Le vendite di metalli di base e prodotti in metallo, esclusi macchine e impianti, e di mezzi di trasporto, autoveicoli inclusi.
- C) Le vendite di metalli di base e prodotti in metallo, inclusi macchine e impianti, e di mezzi di trasporto, autoveicoli esclusi.

026. Nel terzo trimestre 2018 si stima una crescita congiunturale delle esportazioni diffusa a livello territoriale ma con intensità diverse tra le ripartizioni. Per quale ripartizione viene stimata l'intensità maggiore?

- A) Per il Nord-ovest, +4,3%.
- B) Per il Sud e Isole, +4,3%.
- C) Per il Sud e Isole, +2,9%.

027. Relativamente al periodo gennaio-settembre 2018, viene definita "rilevante" la crescita tendenziale dell'export per:

- A) Il Nord-ovest, il Sud e le Isole.
- B) Le Isole, il Sud e il Nord-est.
- C) Il Nord-est, il Sud e il Nord-ovest.

028. Nel periodo gennaio-settembre 2018, l'Emilia-Romagna rientra tra le regioni:

- A) Più dinamiche all'export su base annua che tuttavia presentano una forte polarizzazione settoriale.
- B) Che contribuiscono per quasi 3 punti percentuali alla crescita complessiva dell'export nazionale.
- C) Che hanno un contenuto impatto sulla crescita dell'export nazionale.

029. Contribuiscono alla crescita tendenziale dell'export nazionale nei primi nove mesi del 2018 per quasi un punto percentuale, tra l'altro, le vendite di prodotti petroliferi raffinati:

- A) Dalla Sicilia e dall'Emilia-Romagna.
- B) Dall'Emilia-Romagna.
- C) Dalla Sicilia e di macchinari e apparecchi n.c.a. dall'Emilia-Romagna.

**030. Individuare tra i seguenti il sillogismo che conduce ad una falsa conclusione.**

- A) Se parli inglese le aziende ti assumono al primo colloquio. Io sono stata assunta al primo colloquio, dunque parlo inglese.
- B) Se utilizzi correttamente Excel sei favorito rispetto ad altri candidati. Io utilizzo correttamente Excel dunque sono favorito rispetto ad altri candidati.
- C) Se sei puntuale, il tuo datore di lavoro non ti rimprovera. Io sono puntuale, dunque il mio datore di lavoro non mi rimprovera.

**031. Quale dei seguenti termini può sostituire la parola "favellare" senza modificare il significato della frase ove essa è inserita?**

- A) Bofonchiare.
- B) Parlare.
- C) Mentire.

**032. In quale coppia, tra quelle proposte, i due vocaboli sono collegati da un rapporto di inclusione?**

- A) Sardegna, isola.
- B) Sicilia, Elba.
- C) Isola, penisola.

**033. Cosa significa negare la frase "tutti i conigli sono energici"?**

- A) Nessun coniglio è pigro.
- B) Esiste almeno un coniglio pigro.
- C) Devono esistere almeno due conigli pigri.

**034. Quale termine è il più adatto per indicare un "Ragionamento non valido dal punto di vista logico, ma che in apparenza sembra veritiero"?**

- A) Deduzione.
- B) Sillogismo.
- C) Parallogismo.

**035. Data la parola "aereo", quale tra quelle proposte è la meno attinente/collegabile?**

- A) Cioccolato.
- B) Disastro.
- C) Linea.

**036. Quali lettere non inserirebbe al posto degli spazi per ottenere una parola di senso compiuto ed uso corrente? P\_N\_.**

- A) A - E.
- B) U - O.
- C) E - A.

**037. Trovare il termine intruso tra quelli proposti.**

- A) Ulna.
- B) Perone.
- C) Omero.

**038. Chi è entrato almeno una volta nella casa blu, dopo non può più entrare nella casa gialla. Solo chi è già entrato nella casa rossa può entrare nella casa gialla. Chi è entrato almeno una volta nella casa gialla, dopo non può più entrare nella casa verde. Se sono entrato nella casa verde...**

- A) Potrei essere entrato prima nella casa blu.
- B) Sicuramente sono entrato prima nella casa rossa.
- C) Sicuramente non sono entrato prima nella casa blu.

**039. In quali dei seguenti punti i termini sono proposti nell'ordine NOME/VERBO/AGGETTIVO/AVVERBIO?**

- A) Quiete/Mantenersi/Elegante/Stortamente.
- B) Pinguedine/Perpetuare/Sconcezza/Stoicamente.
- C) Noioso/Inumidire/Uggioso/Turgidamente.

**040. Se la sequenza è "vocale-consonante-consonante-vocale", quale stringa è scritta in modo corretto?**

- A) MPEATROUQLEAGFEURTUO.
- B) AGFEURTUOPOPLEEGFAADE.
- C) EGFAADSEEZCAEFBUUNME.

**041. Quale, tra le seguenti serie di numeri, presenta un solo errore di battitura rispetto alla seguente sequenza? 566678 – 325537764 – 7773311.**

- A) 566678 – 325537763 – 7783311.
- B) 566678 – 325577764 – 7773311.
- C) 566688 – 325537764 – 7773312.

**042. Individuare il gruppo di numeri che risulti esattamente il contrario della seguente base: 25071955230119651210.**

- A) 01215691103255917052.
- B) 01215961103259517052.
- C) 01216591103255910752.

**043. In quale dei seguenti gruppi la lettera D non precede immediatamente la O e la lettera A non segue immediatamente la N?**

- A) NODAODAODAODONAODNDNO.
- B) ODAODAODNODNAONNODNDN.
- C) ODAODANODNDONODANANO.

044. In quale riga è presente la seguente sequenza: MMRMMMMMR?

- A) RMMMMRMMMMMMRMR.
- B) MRMMRMMMMMMRMM.
- C) MMRMRMMMMRMMMMR.

045. Qual è il totale di "forbici" presenti nelle due tabelle? Quanti "fiori" sono contenuti rispettivamente nella prima e nella seconda tabella?

Tabella 1										Tabella 2									
✂	✂	✂	✂	✂	✂	✂	✂	✂	✂	✂	✂	✂	✂	✂	✂	✂	✂	✂	✂
✂	✂	✂	✂	✂	✂	✂	✂	✂	✂	✂	✂	✂	✂	✂	✂	✂	✂	✂	✂
✂	✂	✂	✂	✂	✂	✂	✂	✂	✂	✂	✂	✂	✂	✂	✂	✂	✂	✂	✂

- A) 12. Nella tabella 1 sono contenuti 5 "fiori", nella tabella 2 sono contenuti 8 "fiori".
- B) 12. Nella tabella 1 sono contenuti 6 "fiori", nella tabella 2 sono contenuti 9 "fiori".
- C) 11. Nella tabella 1 sono contenuti 6 "fiori", nella tabella 2 sono contenuti 9 "fiori".

046. Quale delle figure proposte completa la serie?

			<b>1</b>	<b>2</b>	<b>3</b>

- A) La figura 2.
- B) La figura 3.
- C) La figura 1.

047. Quale delle figure proposte completa la serie ?

			<b>1</b>	<b>2</b>	<b>3</b>

- A) La figura 2.
- B) La figura 3.
- C) La figura 1.

048. In quale dei seguenti quadrati è proposto il disegno 1, dopo essere stato ruotato e ribaltato?


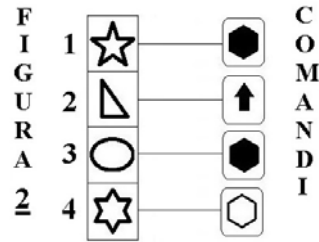
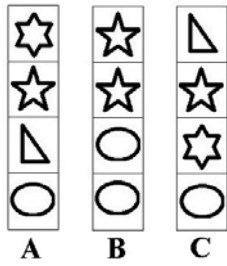
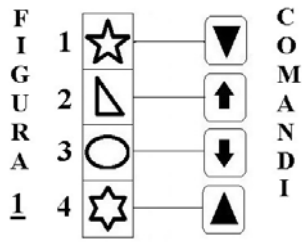
<b>1</b>	<b>A</b>	<b>B</b>	<b>C</b>

- A) Nel quadrato B.
- B) Nel quadrato A.
- C) Nel quadrato C.

Osservare la figura e rispondere alle seguenti 2 domande. (049 - 050)

ELENCO COMANDI

-  scambia con il box numero 1
-  inverte i colori
-  copia nel box numero 4
-  scambia con il box subito sopra
-  colora il disegno nel box di bianco
-  colora il disegno nel box di nero
-  copia nel box subito sotto

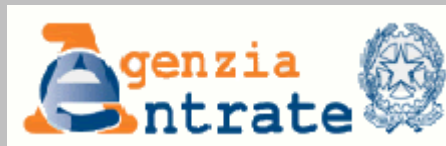


049. Quale figura si ottiene applicando alla FIGURA 1 i COMANDI a lato?

- A) La figura C.
- B) La figura B.
- C) La figura A.

050. Quale figura si ottiene applicando alla FIGURA 2 i COMANDI a lato?

- A) La figura B.
- B) La figura C.
- C) La figura A.



# **AGENZIA DELLE ENTRATE**

**Selezione pubblica per l'assunzione a tempo indeterminato di complessive 10 unità per la terza area funzionale, fascia retributiva F1, profilo professionale funzionario, per attività amministrativo-tributaria, destinati agli Uffici dell'Agenzia situati nella Regione Autonoma Valle d'Aosta**

**PROVA  
OGGETTIVA ATTITUDINALE**

**Questionario 1  
LINGUA FRANCESE**

**001. Quels numéros doit-on écrire à la place des points de suspension ?**

141 - 158 - ... - 192 - ... - 226 - 243.

- A) 176 et 209.
- B) 175 et 209.
- C) 175 et 210.

**002. Je dépense le tiers de mon salaire pour la location de mon appartement, le quart pour les charges fixes (factures, assurance voiture, etc.) e il me reste 470 euros pour toutes les autres dépenses. Quel est le montant de mon salaire ?**

- A) 1.128.
- B) 1.812.
- C) 1.218.

**003. Lequel, parmi les numéros suivants, allez-vous éliminer ?**

161 - 266 - 287 - 112 - 57.

- A) 161.
- B) 57.
- C) 266.

**004. Quels numéros complètent la séquence ?**

173 - 184 - 178 - 189 - 183 - 194 - ... - ... - 193 - 204

- A) 188 et 199.
- B) 189 et 199.
- C) 188 et 200.

**005. On prend un numéro, on le multiplie pour 400, on le divise pour 25 et l'on obtient 512 comme résultat. Le numéro est :**

- A) 32.
- B) 30.
- C) 34.

**006. Avec quels numéros continue la séquence ?**

57 - 60 - 54 - 67 - 51 - 74 - 48 - 81 - ... - ....

- A) 44 et 88.
- B) 45 et 88.
- C) 45 et 89.

**007. Quels signes mathématiques doit-on insérer à la place des points de suspension pour que l'équation soit correcte ?**

$$743 \dots 432 \dots 89 \dots 4.325 \dots 389 = 5.978$$

- A) + - - + +.
- B) + + - - +.
- C) + + + + +.

**008. Maintenant, à Bogota, il est 03 :20 du matin. À Dublin, le fuseau horaire est 7 heures en avance par rapport à Bogota ; à Quito le fuseau horaire est 4 heures en retard par rapport à Dublin et à Paris le fuseau horaire est 5 heures en avance par rapport à Quito. Quelle heure est-il, maintenant, à Paris ?**

- A) Il est 11 :20 du matin.
- B) Il est 10 :20 du matin.
- C) Il est 09 :20 du matin.

**009. Il y quatre grands-pères : Gino, Pino, Rino et Dino. Gino a 6 petits enfants, Pino a 7 petits enfants, Rino a 8 petits enfants et Dino a 9 petits enfants. Combien de petits enfants, en moyenne, ont les quatre grands-pères ?**

- A) 8.
- B) 7.
- C) 7,5.

**010. En utilisant le numéro 4, l'on a construit trois expressions mathématiques différentes. Quelle expression donne « 3 » comme résultat ?**

- A)  $? = (4 \times 4 + 4)/4.$
- B)  $? = (4 + 4 + 4)/4.$
- C)  $? = 44/44.$



Lisez le passage et répondez aux 6 questions suivantes. (011-016)

Marta a décidé d'acheter un livre qui appartient à la collection « femmes exceptionnelles qui ont changé le monde », mais elle ne sait pas encore quel livre choisir entre quatre options : «Artemisia» de M. Montessori ; «Vita» de M. Curie ; «Elogio» de R. Levi Montalcini ; «Passione» di I. Gandhi. Les prix des quatre livres, pas forcément dans cet ordre, sont : 7 euros, 7,50 euros, 8 euros et 9 euros. Chaque livre est composé par un différent nombre de pages et, on ordre dispersé, les pages sont : 88, 93, 99 et 101. On a les informations suivantes : le livre composé par 93 pages coute 7 euros, «Elogio» est composé par 99 pages, le livre « Passione » coute plus de 8 euros et il n'est pas composé par 88 pages; le livre de M. Curie ne coute pas 8 euros.

**011. Quel livre est composé par 93 pages ?**

- A) Le livre qui coute 8 euros.
- B) «Artemisia».
- C) «Passione».

**012. 9 euros est le prix :**

- A) Du livre de M. Montessori.
- B) Du livre composé par 101 pages.
- C) Du livre «Elogio».

**013. Sélectionner la bonne affirmation.**

- A) «Vita» est composé par 88 pages.
- B) «Elogio» coute 7.50 euros.
- C) « Passione » est composé par 99 pages.

**014. Si Marta décide d'acheter le livre moins cher, elle achètera :**

- A) Le livre de M. Montessori.
- B) Le livre de R. Levi Montalcini.
- C) Le livre composé par 99 pages.

**015. Par combien de pages est composé le livre qui coute 8 euros ?**

- A) 101 pages.
- B) 88 pages.
- C) 99 pages.

**016. Le livre qui coute 7.50 euros est :**

- A) «Vita».
- B) De I. Ghandi.
- C) Composé par 101 pages.

**017. Quel mot complète correctement la séquence ? Daghe – dannoso – damigella.**

- A) Dattilogie.
- B) Dannunziani.
- C) Daltoniche.

**018. Aldo, Bruna, Carlo, Dafne et Raul sont assis à une table de forme ovale. Si Aldo n'est pas à coté de Dafne et si Bruna est assise entre Carlo et Aldo, entre qui est assis Raul ?**

- A) Entre deux hommes.
- B) Entre Aldo et Dafne.
- C) Entre Bruna et Aldo.

**019. Si X se trouve entre A et B ; si A se trouve entre Y et X ; si B se trouve entre X et K ; si Y se trouve entre C et A ; si K se trouve entre B et D, alors il est certain que :**

- A) A est plus proche à Y que à C.
- B) D est plus proche à X que à B.
- C) On ne peut pas établir si B est plus proche à K ou bien à D.

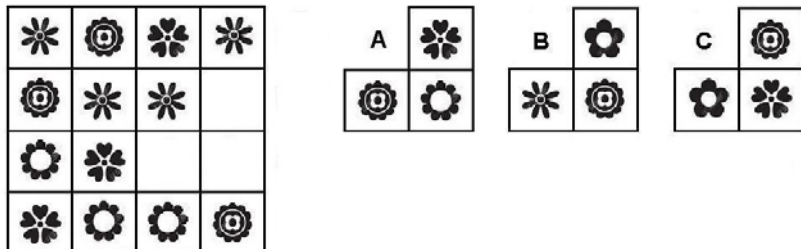
**020. Si « ? » est en relation avec «buse», alors « ? » est en relation avec «maquereau».**

- A) Voler – nager.
- B) Planer – mer.
- C) Ailes – plumes.

**021. Vulcano : Sicilia = (X) : Sardegna = Ortels : (Y).**


- A) (X) Gennargentu; (Y) Trentino-Alto Adige.
- B) (X) Etna; (Y) Piemonte.
- C) (X) Madonie; (Y) Lombardia.

022. Sélectionner le dessin qui complète logiquement la grille.



- A) Dessin A.
- B) Dessin C.
- C) Dessin B.

023. La suivante proportion logique se complète avec les éléments indiqués par les lettres :



- A) A et D.
- B) A et C.
- C) B et E.

024. Sélectionner le mot qui complète correctement la proportion logique : «bardare» est en relation avec «barrare» comme «gerente» est en relation avec « ? ».

- A) Geronte.
- B) Gestante.
- C) Gerenza.

Lisez le passage et répondez aux 5 questions suivantes. (025 - 029)

*Dans le troisième trimestre de 2018 on estime une croissance économique des exportations à niveau territorial, mais avec des intensités différentes : +4,3% pour le Sud et les Îles, + 2,9% pour le Nord-ouest, +0,7% pour le Centre, +0,2% pour le Nord-est. Dans la période Janvier-Septembre 2018, la tendance de la croissance des exportations est confirmée très soutenue pour les îles et assez soutenue pour le nord-est, le sud et le Nord-Ouest, tandis que le centre est légèrement en baisse. Dans la même période, parmi les régions les plus dynamiques pour ce qui concerne l'exportation sur une base annuelle, sont signalés Molise, Calabria, Basilicata et Valle d'Aosta, qui ont cependant une forte polarisation sectorielle, en produisant un impact modeste sur la croissance des exportations nationales. Sicilia, Friuli Venezia-Giulia, Emilia-Romagna et Lombardia contribuent pour presque 3 points de pourcentage à la croissance globale. Les ventes de métaux de base et de produits métalliques, exception faite pour les machines et les installations, et des moyens de transport, à l'exclusion des véhicules à moteur, de la Lombardia, des produits pétroliers raffinés de Sicilia et des machines et appareils n.c.a. de l'Emilia-Romagna contribuent à la tendance de croissance des exportations, dans les neuf premiers mois de 2018, pour presque un point de pourcentage.*

025. La contribution de la Lombardie à la croissance tendancielle des exportations nationales au cours des neuf premiers mois de 2018, concerne :

- A) Les ventes de métaux de base et de produits métalliques, exception faite pour les machines et les installations, et des moyens de transport, à l'exclusion des véhicules à moteur.
- B) Les ventes de métaux de base et de produits métalliques, exception faite pour les machines et les installations, et des moyens de transport, y compris des véhicules à moteur.
- C) Les ventes de métaux de base et de produits métalliques, y compris des machines et des installations, et des moyens de transport, à l'exclusion des véhicules à moteur.

026. Dans le troisième trimestre de 2018, une croissance cyclique des exportations a été estimée au niveau territorial, mais avec des intensités différentes entre les secteurs. Pour quel secteur est estimée l'intensité plus élevée?

- A) pour le Nord-ouest, +4,3%.
- B) pour le Sud et les Îles, +4,3%.
- C) pour le Sud et les Îles, + 2,9%.

027. Pour la période de Janvier-Septembre 2018, est définie comme « soutenue » la tendance de la croissance pour :

- A) Le Nord-ouest, le Sud et les Îles.
- B) Les Îles, le Sud et le Nord-est.
- C) Le Nord-est, le Sud et le Nord-ouest.

028. Pour la période de Janvier-Septembre 2018, l'Emilia-Romagna fait partie des régions qui :

- A) Sont plus dynamiques pour ce qui concerne l'exportation sur une base annuelle, mais qui cependant présentent une forte polarisation sectorielle.
- B) Contribuent pour presque 3 points de pourcentage à la croissance globale.
- C) Produisent un impact modeste sur la croissance des exportations nationales.

**029. Parmi les autres, contribuent à la croissance tendancielle des exportations nationales au cours des neuf premiers mois de 2018 pour presque un point de pourcentage, les ventes de produits pétroliers raffinés :**

- A) De Sicilia et de l'Emilia-Romagna.
- B) De l'Emilia-Romagna.
- C) De Sicilia et de machines et appareils n.c.a. de l'Emilia-Romagna.

**030. Sélectionner, parmi les syllogismes suivants, celui qui conduit à une conclusion fautive :**

- A) Si tu parles anglais, les entreprises t'embauchent lors de la première entrevue. J'ai été embauchée lors de la première entrevue, donc je parle anglais.
- B) Si tu utilises Excel correctement, tu as un avantage par rapport aux autres candidats. J'utilise Excel correctement, donc j'ai un avantage par rapport aux autres candidats.
- C) Si tu es ponctuel, ton employeur ne te gronde pas. Je suis ponctuel, donc mon employeur ne me gronde pas.

**031. Quel mot peut substituer le mot «favellare» sans changer le sens de la phrase qui le contient ?**

- A) Bofonchiare.
- B) Parlare.
- C) Mentire.

**032. Dans quel couple, parmi les trois couples proposés, les deux mots sont liés par un rapport d'inclusion ?**

- A) Sardegna, île.
- B) Sicilia, Elba.
- C) Ile, péninsule.

**033. Qu'est-ce que signifie démentir la phrase «tous les lapins sont énergiques» ?**

- A) aucun lapin n'est paresseux.
- B) il y a au moins un lapin paresseux.
- C) il y a au moins deux lapins paresseux.

**034. Quel mot indique «un raisonnement qui n'est pas valable du point de vue logique, mais qui semble apparemment vrai» ?**

- A) Déduction.
- B) Syllogisme.
- C) Paralogisme.

**035. Etant donné le mot «avion», quel est le mot, parmi les options proposées, qui a moins de pertinence avec «avion» ?**

- A) Chocolat.
- B) Désastre.
- C) Ligne.

**036. Quelles lettres ne doivent pas être insérées à la place des points de suspension pour obtenir un mot italien sensé et d'usage courant ? P\_N\_.**

- A) A - E.
- B) U - O.
- C) E - A.

**037. Parmi les mots proposés, trouvez l'intrus.**

- A) Cubitus.
- B) Péroné.
- C) Humérus.

**038. Les gens qui sont entrés au moins une fois dans la maison bleue, ne peuvent plus entrer dans la maison jaune. Seulement ceux qui sont déjà entrés dans la maison rouge peuvent entrer dans la maison jaune. Les gens qui sont entrés au moins une fois dans la maison jaune, ne peuvent plus entrer dans la maison verte. Si je suis entré dans la maison verte ...**

- A) Il est possible que, en avance, je suis entré dans la maison bleue.
- B) Il est certain que, en avance, je suis entré dans la maison rouge.
- C) Il est certain que, en avance, je ne suis pas entré dans la maison bleue.

**039 Sélectionnez l'option dans laquelle les mots proposés suivent l'ordre : NOM/VERBE/ADJECTIF/ADVERBE**

- A) Quiete/Mantenersi/Elegante/Stortamente.
- B) Pinguedine/Perpetuare/Sconcezza/Stoicamente.
- C) Noioso/Inumidire/Uggioso/Turgidamente.

040. Si la séquence correcte est «voyelle- consonant – consonant – voyelle», quelle est la bonne option ?

- A) MPEATROUQLEAGFEURTUO.
- B) AGFEURTUOPLLEEGFAADE.
- C) EGFAADSEEZCAEFBUUNME.

041. Quelle séquence de chiffres présente une seule faute de frappe par rapport à la séquence d'origine ? 566678 – 325537764 – 7773311.

- A) 566678 – 325537763 – 7783311.
- B) 566678 – 325577764 – 7773311.
- C) 566688 – 325537764 – 7773312.

042 Sélectionner la séquence de chiffres qui est l'exacte contraire de la séquence-base : 25071955230119651210.

- A) 01215691103255917052.
- B) 01215961103259517052.
- C) 01216591103255910752.

043. Dans quelle séquence la lettre D ne précède pas immédiatement la lettre O et la lettre A ne suit pas immédiatement la lettre N ?

- A) NODAOAODAODONAODNDNO.
- B) ODAODAODNODAOONNODNDN.
- C) ODAODANODNDONODANANO.

044. Quelle ligne contient la séquence suivante : MMRMMMMMR?

- A) RMMMMRMMMMMMRMR.
- B) MRMMRMMMMMMRMM.
- C) MMRMRMMMMRMMMMR.

045 Combien de ciseaux sont contenues dans les deux tableaux ? Combien de fleurs sont contenues respectivement dans le premier tableau et dans le deuxième tableau ?

Tabella 1										Tabella 2									

- A) 12 ciseaux. Dans le premier tableau il y a cinq fleurs et dans le deuxième il y en a 8.
- B) 12 ciseaux. Dans le premier tableau il y a six fleurs et dans le deuxième il y en a 9.
- C) 11 ciseaux. Dans le premier tableau il y a six fleurs et dans le deuxième il y en a 9.

046. Lequel, parmi les dessins proposés, complète la séquence ?

			<b>1</b>	<b>2</b>	<b>3</b>

- A) Dessin 2.
- B) Dessin 3.
- C) Dessin 1.

047. Lequel, parmi les dessins proposés, complète la séquence ?

			<b>1</b>	<b>2</b>	<b>3</b>

- A) Dessin 2.
- B) Dessin 3.
- C) Dessin 1.

048. Lequel, parmi les dessins proposés (A,B,C) représente la figure 1 après qu'elle a été tournée et renversée ?


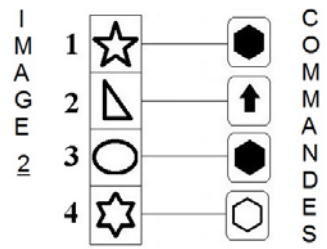

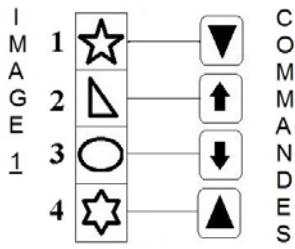
<b>1</b>	<b>A</b>	<b>B</b>	<b>C</b>

- A) Le dessin B.
- B) Le dessin A.
- C) Le dessin C.

Regardez l'image proposée et répondez aux deux questions suivantes. (049 - 050)

LISTE COMMANDES

-  échange avec le box numéro 1    
  inverse les couleurs    
  copie dans le box numéro 4    
  échange avec le box ci-dessus  
 colore de blanc le dessin dans le box    
  colore de noir le dessin dans le box    
  échange avec le box ci-dessous



049. Quel dessin l'on peut obtenir en utilisant, sur l'image 1, les commandes à côté ?

- A) Le dessin C.
- B) Le dessin B.
- C) Le dessin A.

050. Quel dessin l'on peut obtenir en utilisant, sur l'image 1, les commandes à côté ?

- A) Le dessin B.
- B) Le dessin C.
- C) Le dessin A.